

نام و نام خانوادگی: .....

۱- با توجه به عدد ۷۴۵۳۲۰۰ به سؤالات زیر پاسخ دهید.

الف) عدد را به حروف بنویسید.

ب) ارزش رقم‌های ۷ در عدد بالا چیست؟

ج) رقم ۴ در این عدد یعنی ۴ بسته‌ی .....

۲- با استفاده از رقم‌های ۰، ۹، ۶ و ۵ بزرگ‌ترین و کوچک‌ترین عدد ۳ رقمی را نوشته و اختلاف آن‌ها را

به دست آورید. (از هر رقم فقط یک بار استفاده کنید).

---



---

۳- در جاهای خالی زیر عدد مناسب بگذارید.

$800 \times 200 = \square$

$12000 \div 20 = \square$

$\square = 100 \text{ تا صد هزار}$

$5945 < \square 945$

$8,976 + 5000 = \square$

$\square = 1000 \text{ تا یک میلیون}$

$3 \times 100,000 + 6 \times 10,000 + 9 \times 1000 + 5 = \square$



$200 \times \square = 1,000,000$

۴- عددهای داده شده به کدام یک، نزدیک‌تر است؟ آن را رنگ کنید.

$\boxed{4,380,000,000} \leftarrow 4,389,000,000 \rightarrow \boxed{4,390,000,000}$

$\boxed{7,900,000,000} \leftarrow 7,968,000,000 \rightarrow \boxed{8,000,000,000}$

۵- محورها را کامل کرده و محل تقریبی عددهای داده شده را روی آن مشخص کنید.



۶- الگوهای عددی مربوط به زمان را ادامه دهید.

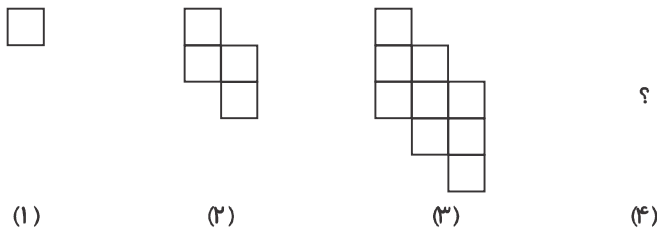
$3':10'' - 3':20'' - 3':30'' - \dots - \dots$

$6:35':40'' - 6:35':50'' - 6:36':00'' - \dots - \dots$

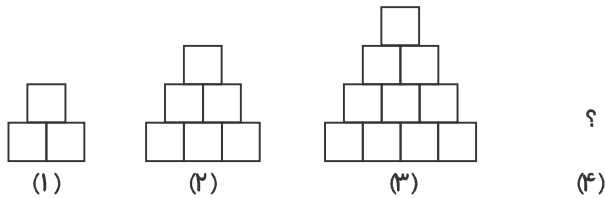
۷- اگر اذان صبح ساعت ۵:۲۵ باشد و یک ساعت و ۴۰' بعد از آن آفتاب طلوع کند، چه زمانی خورشید طلوع خواهد کرد؟

۸- در مسابقه‌ی اتومبیل‌رانی، نفر اول در زمان ۵۹":۵۳" و نفر دوم در زمان ۱:۰۰":۰۰" کل مسیر را طی کردند. کدام یک زودتر به خط پایان رسیدند؟ برنده چه مدتی زودتر از نفر دوم به خط پایان رسیده است؟

۹- با توجه به الگوی شکل زیر، شکل بعدی را رسم کنید.



۱۰- با توجه به الگوی زیر، شکل ششم از چند مربع ساخته می‌شود؟



۱۱- پنجمین عدد مربعی را حساب کنید.

ارزشیابی معلّم	خیلی خوب	خوب	قابل قبول	نیاز به تلاش بیشتر
عددنویسی و ارزش مکانی اعداد را می‌داند.				
می‌تواند محاسبات را به خوبی انجام دهد.				
تقریب زدن اعداد را می‌داند و جای آن را روی محور نشان می‌دهد.				
مسأله‌های زمان (عدد مرگب) را می‌تواند حل کند.				
توانایی پیدا نمودن الگو را داشته و آن را ادامه می‌دهد.				